

## 4.OSZTÁLY:MATEMATIKA

Kedves Gyerekek!Remélem jól vagytok!Most egy kicsit elevezünk az osztástól és a szorzástól és az idővel mérközünk meg!Együtt már mindezt megtanultuk!HAJRÁ!

# AZ IDŐ MÉRÉSE

**1.** Rendezd sorba az idő mérésére használt mértékegységeket a legnagyobbtól a legkisebbig!

Óra	Év
Perc	Hét
Nap	Hónap


**2.** Töltsd ki az üres mezőket!

Hónap	Napok száma

**A HÉT NAPJAI**



1.  
2.  
3.  
4.  
5.  
6.  
7.

**3.** Hány óra van?



**4.** Rajzold be a mutatókat, amelyek a következő időt mutatják:

dél      11 óra 15 perc      22 óra      8 óra 25 perc      13 óra 5 perc



Nagyon büszke vagyok rád!ÜGYES VOLTÁL!JÖHET A PIHI!

