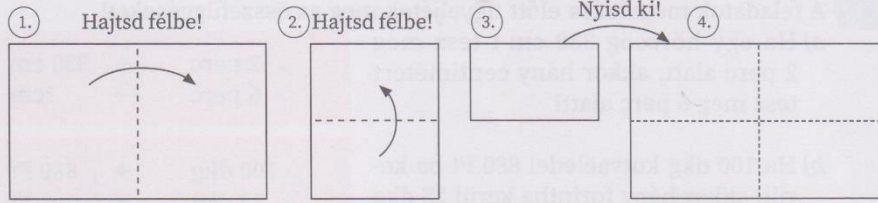


4.osztály matematika

Kedves Gyerekek! Most elkalandozunk a törtek világába! Ne ijedj meg tőle! Csak gondolj a szülinapi tortára, amikor édesanya szeleteli a vendégeknek! Barátkozz a törtekkel! Hajrá!

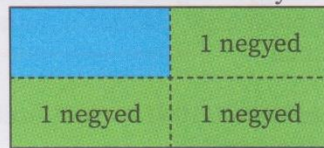
Ismerkedés a törtekkel

1. a) Vegyél a kezvedbe egy írólapot, és hajtogasd össze az alábbiak szerint!

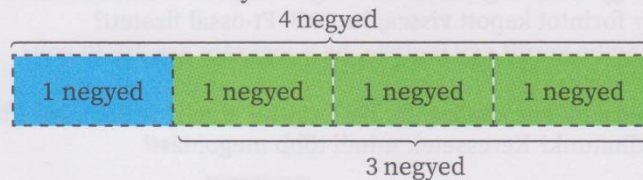


b) Hány egyenlő részre osztottad fel az írólapot? Mekkora része ez az egész írólapnak?

c) Színezd ki az írólapod az alábbiak szerint! Hányad részét színezted kékre?



d) Nyírd el az írólapodat a hajtásvonalak mentén, és helyezd egymás mellé a negyedeket az ábra szerint! Hányadrésze kék színű ennek az ábrának?



e) Rendezd a negyedeket az alábbi ábrákhoz hasonlóan! Mi változott? Hányadik negyed lett a kék?



2. a) Hány egyenlő részre osztottuk fel a tortákat?



b) Az egész tortának hányadrészét helyeztük a tányérra?

c) Hasonlítsátok össze a tányérra helyezett tortaszeletek nagyságát! Mit tapasztaltatok? Fogalmazzátok meg!

Ügyes voltál! Tudtam, hogy nem okoz gondot! Bravó!!

