

#### 4.OSZTÁLY MATEMATIKA

Kedves Gyerekek! Ismét tört számos feladat, de eddig is olyan Ügyesek voltatok!  
Kiváncsi Fáncsi nagy érdeklődéssel figyel benneteket!

7. Mennyi édesség és gyümölcs jut egy-egy gyereknek, ha egyenlően osztják szét a finomságokat?

a)



b)



c)




d)



8. Mindegyik téglalap 1 egészet ér. Hányadrészt színeztük ki?

a)




b)




c)




d)



e)



f)



FANTASZTIKUSAK VAGY TOK! GRATULA NEKTEK!

